


Eiro – mūsu nauda

1. uzdevums. Ieraksti kontūrkartē visu eiro zonas valstu nosaukumus!

	<p>Uz skaidrās naudas norēķiniem eiro pārgāja:</p> <p>2002. gada 1. janvārī – Austrija, Beļģija, Francija, Grieķija, Īrija, Itālija, Luksemburga, Nīderlande, Portugāle, Somija, Spānija, Vācija;</p> <p>2007. gadā – Slovēnija; 2008. gadā – Kipra, Malta; 2009. gadā – Slovākija; 2011. gadā – Igaunija; 2014. gadā – Latvija; 2015. gadā – Lietuva.</p>
---	--

2. uzdevums. Izmantojot filmas "Eiro – mūsu nauda" informāciju, pabeidz teikumus!

Dažādu nominālvērtību banknotes ir krāsās, un tās atšķiras arī pēc

Eiro banknošu dažāda lielums, kontrastējošās krāsas un

palīdz cilvēkiem, t.sk. personām ar redzes problēmām, atpazīt nominālvērtību.

Banknošu nominālvērtības ir 5,, 2.....,,, un 5..... eiro.

Eiro banknošu visām valstīm, kuras ieviesušas eiro, ir

Banknošu dizainā izmantotas dažādu

..... arhitektūras stilu iezīmes.

3. uzdevums. Salīdzini pirmā izlaiduma eiro banknoti ar otrā izlaiduma jeb jaunās Eiropas sērijas banknoti!



<http://www.jaunas-euro-banknotes.eu/Eiro-banknotes/Eiro-banknotes-7-2/JAUN%C4%80-10-EIRO-BANKNOTE>

Uzraksti, kas raksturīgs katrai banknotei! Pasvītro atšķirīgo!

	Eiropas sērijas 10 eiro banknote	Pirmā izlaiduma 10 eiro banknote
Papīrs		
Reljefs iespiedums		
Hologramma		
Zeltīta josla		
Skaitlis		
Ūdenszīme		
Pretviltošanas josla		
Caurskata zīme		

4. uzdevums. Kura valsts izlaidusi šīs eiro monētas?

			
1.	2.	3.	4.
			
5.	6.	7.	8.
			
9.	10.	11.	12.

5. uzdevums. Izmantojot filmas "Eiro – mūsu nauda" informāciju, pabeidz teikumus!





Eiro monētās ietverti raksturlielumi ar augstu drošības pakāpi.

1 un 2 eiro monētās izmantota sarežģīta un sakausējuma tehnoloģija.

10, 20 un 50 centu monētām izmantots unikāls metāla sakausējums (.....), ko grūti izkausēt un ko izmanto tikai monētu izgatavošanai.

Uzraksts uz monētas jostas, kā arī 10, 20 un 50 centu monētu unikālais metāla sastāvs aizsargā tās pret viltošanu.

6. uzdevums. Ieraksti tabulā trūkstošo informāciju!

	Kas attēlots	Nominālvērtība
		
		
		
		

Atbildi uz jautājumiem!

Kā eiro monētu dizains saistīts ar:

1. neatkarīgās Latvijas valsts izveides periodu (1918–1940)

2. neatkarību atguvušo Latvijas Republiku _____

7. uzdevums. Atrisini krustvārdu mīklu!

1.

2.

3.

4.

5.

6.

7.

8.

9.

Horizontāli

1. Uz 20 _____ monētas attēlota Eiropas ģeogrāfiskā karte.
2. Latvijas kaimiņvalsts, kurā eiro, ieviests no 2015. gada, – _____.
3. Uz Latvijas 50 centu monētas attēlots Latvijas Republikas lielais valsts _____.
4. Banknošu aversā attēloti _____ un durvis.
5. Uz 5 centu monētas attēlota Eiropa kopā ar Āfriku un _____.
6. Uz Latvijas 2 eiro monētas attēlots Latvijas jaunavas _____.
7. Euro 2011. gadā ieviesa Latvijas kaimiņvalsts _____.
8. Latus pret eiro varēs mainīt mūžīgi Latvijas _____.
9. Euro simbola "€" pamatā ir grieķu alfabēta burts _____.

Vertikāli (iekrāsots)

_____ valstis – 19 Ekonomikas un monetārā savienības dalībvalstis.

! Mana galvenā atziņa

.....
.....
.....

★ Mans mājas darbs

.....
.....